

Voorbeeld van een toelatingsexamen algemene muziekleer.

1. Welke majeurtoonsoort heeft de volgende voortekens:



2. Welke mineurtoonsoort heeft de volgende voortekens:




3. Noteer de voortekens die behoren bij de toonsoort van:


D groot:




f klein:



Bes groot:



d klein:



4. Welk interval is dit: (*N.B. schrijf niet "sext" maar "grote sext, overm. kwart, etc."*)



7. Schrijf op de volgende tonen (*let op de sleutel!*) een:




grote tert

reine kwart

grote sext

verm. septiem

8. Schrijf op de volgende tonen (*let op de sleutel!*):



reine kwint

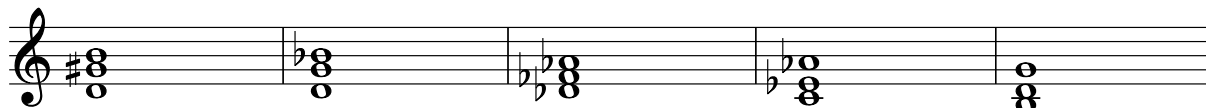
grote sext

klein septiem

reine kwart

9. Noem de soort drieklank en de omkering op de volgende manier:

Voorbeeld:



soort _____

ligging _____

10. Schrijf aan het begin van het voorbeeld de juiste maatsoort, en zet de maatstrepen op de juiste plaats:

